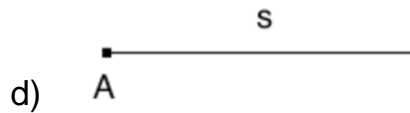
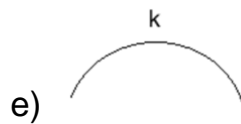
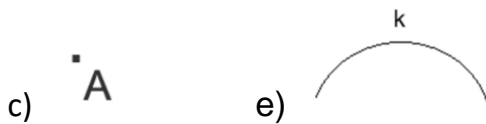
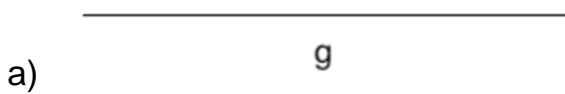


# ■ Punkt, Strecke, Strahl und Gerade Ü2



[Lösung](#) ©www.mein-lernen.at

## 1. Eindimensionale geometrische Objekte bestimmen:



a) \_\_\_\_\_

b) \_\_\_\_\_

c) \_\_\_\_\_

d) \_\_\_\_\_

e) \_\_\_\_\_

## 2. Um was handelt es sich hier?

Dieses Objekt hat weder einen Anfangs- noch einen Endpunkt: \_\_\_\_\_

Dieses Objekt hat einen Anfangspunkt aber keinen Endpunkt: \_\_\_\_\_

Dieses Objekt hat einen Anfangspunkt und einen Endpunkt: \_\_\_\_\_

Bezeichnet eine eindeutige Position im Koordinatensystem: \_\_\_\_\_

Ist gekrümmt und kann sich nur in eine Richtung bewegen: \_\_\_\_\_