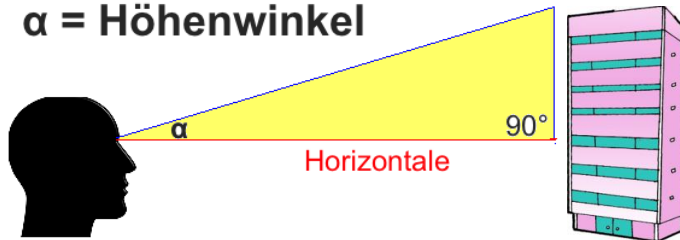


# Höhenwinkel, Tiefenwinkel, Sehwinkel Ü1

1. Was verstehen wir unter einem Höhenwinkel?

$\alpha$  = Höhenwinkel

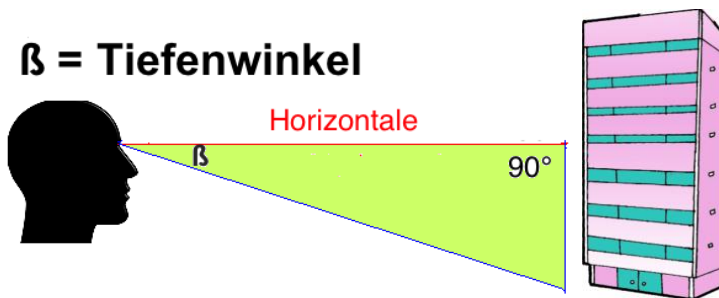


---

---

2. Was verstehen wir unter einem Tiefenwinkel?

$\beta$  = Tiefenwinkel

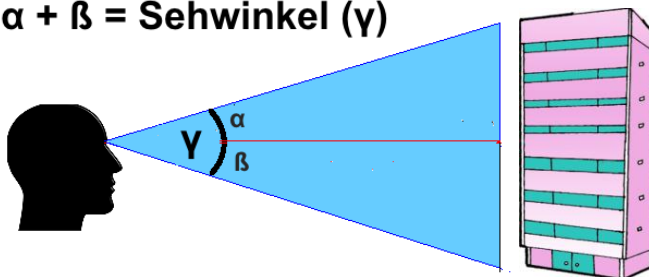


---

---

3. Was verstehen wir unter einem Sehwinkel?

$\alpha + \beta$  = Sehwinkel ( $\gamma$ )



---

---