
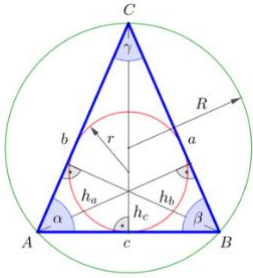


10 Fragen zum gleichschenkligen Dreieck



©www.mein-lernen.at [Lösung](#)

1. Was ist ein gleichschenkliges Dreieck?


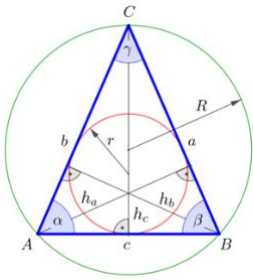
2. Wie bezeichnet man die beiden gleich langen Seiten und die dritte Seite?

3. Was für eine Winkelsumme ergeben alle drei Innenwinkel?

4. Welche beiden Winkel sind gleich groß?

5. Welche Besonderheit weist die Höhe h_c auf?

10 Fragen zum gleichschenkligen Dreieck



©www.mein-lernen.at [Lösung](#)

6. Wo liegt die Symmetrieachse des gleichschenkligen Dreiecks?

7. Die vier merkwürdigen Punkte des gleichschenkligen Dreiecks?

8. Was für ein spezielles gleichschenkliges Dreieck ist das Geodreieck?

9. Berechnung Flächeninhalt und Umfang des gleichschenkligen Dreiecks?

10. Wie berechne ich die Hypotenuse a, die Kathete $c/2$, die Kathete h_c ?
