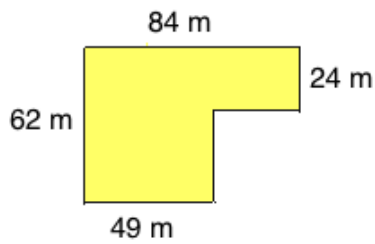


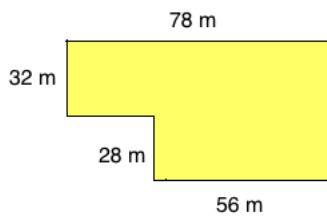


[Lösungen](#)

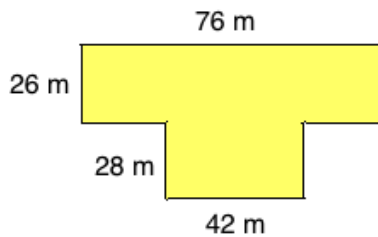
Aufgabe 1: Berechne den Flächeninhalt!



Aufgabe 2: Berechne den Flächeninhalt!



Aufgabe 3: Berechne den Flächeninhalt!



Aufgabe 4: Berechne den Flächeninhalt!

