



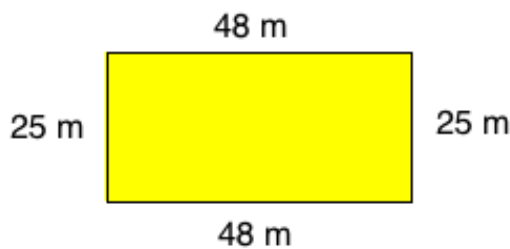
VS Rechteck Umfang berechnen



Aufgabe: Volksschule Rechteck Umfang Übung 1

Ein Grundstück mit einer Länge von 48 m und einer Breite von 25 m wird eingezäunt.

- Umfang des Grundstücks?
- Wie viel m Draht werden benötigt, wenn das Grundstück dreifach umzäunt wird?

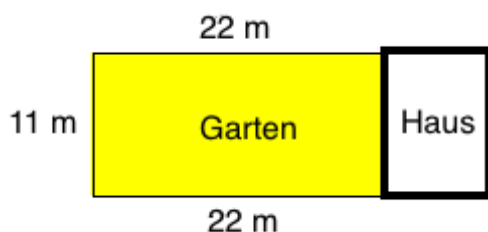


[Lösung](#) ©www.mein-lernen.at

Aufgabe: Volksschule Umfang Rechteck Übung 2

Ein Garten mit einer Länge von 22 m und einer Breite von 11 m wird eingezäunt.

Wie viel m Zaun werden benötigt, wenn 1 Seite des Gartens vom Haus begrenzt werden?



[Lösung](#) ©www.mein-lernen.at