


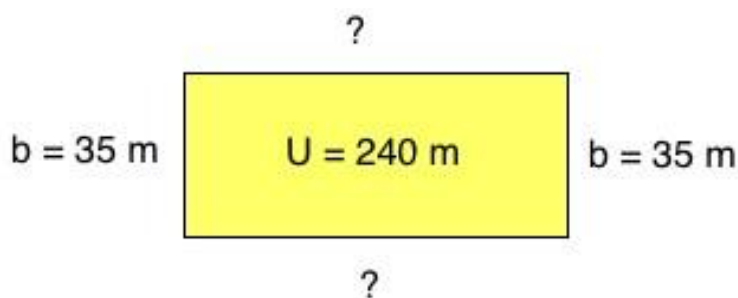
# ■ VS Rechteck Umfang Umkehraufgaben Ü1



## Aufgabe: VS Umfang Rechteck Umkehraufgabe 1

Ein Grundstück hat einen Umfang von 240 m und eine Breite von 35 m.

Was für eine Länge hat das Grundstück?

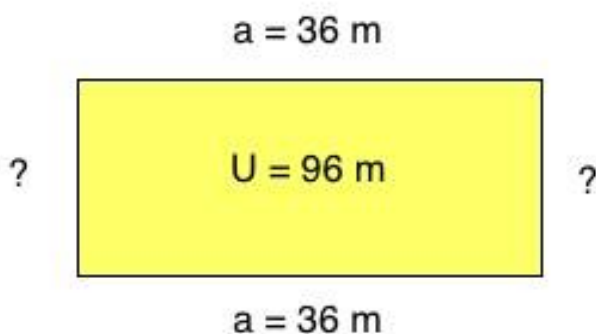


[Lösung](#) ©www.mein-lernen.at

## Aufgabe: VS Umfang Rechteck Umkehraufgabe 2

Ein Grundstück hat einen Umfang von 96 m und eine Länge von 36 m.

Was für eine Breite hat das Grundstück?



[Lösung](#) ©www.mein-lernen.at