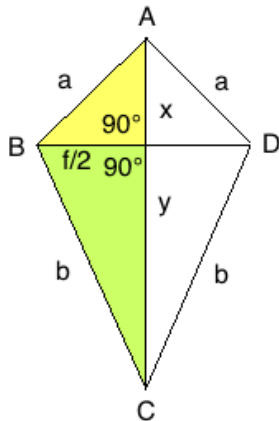


Pythagoras Deltoid Ü1



[Lösung](#) ©www.mein-lernen.at

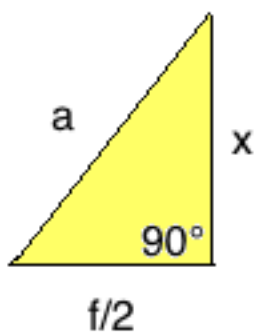
Definition:

Durch die die Diagonalen _____ und _____ ergeben sich _____ rechtwinklige Dreiecke, wovon jeweils _____ gleich groß sind.

Satz des Pythagoras:

Da die Diagonale e sich aus 2 Teilen zusammensetzt (x und y) folgt

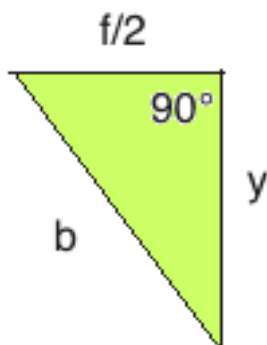
_____ Pythagoras:



$a =$ _____

$x =$ _____

$f/2 =$ _____



$b =$ _____

$y =$ _____

$f/2 =$ _____